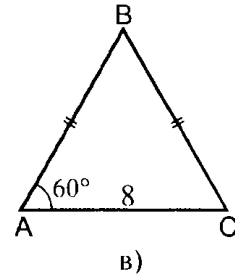
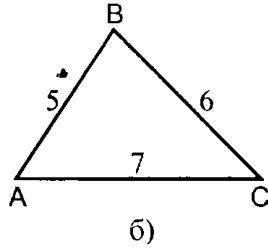
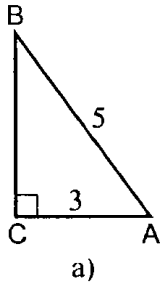


Домашнее задание к 26 ноября.

1. Найти площадь треугольника:



2. В треугольнике ABC : $AB = 2$, $BC = 4$, $AC = 2\sqrt{3}$. Определить вид треугольника, найти $\sphericalangle B$.

